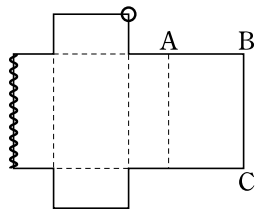
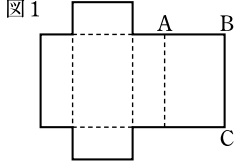
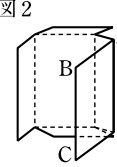
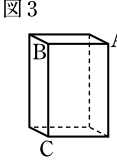
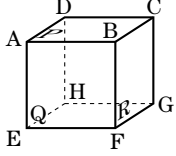


数学1年—自己評価テスト—6章. 空間図形

この章では、角柱・円柱、角錐・円錐、球などを、いろいろな見方でなかま分けをしたり、体積や表面積を求めたりしました。また、空間における平面や直線の位置関係についても調べてきました。展開図や投影図から立体の形を想像する力など、空間図形に関する洞察力も養いましょう。

問題	解答	解説
1	(1) ①, ③, ⑥ (2) ①, ④, ⑤ (3) ②	(1) 回転体には、かならず、曲面がある。したがって、平面ばかりで囲まれた立体は、回転体ではない。 (2) 角柱や円柱は、多角形や円を、その面に垂直な方向に動かしたあととみることができる。 (3) 角錐のうち、底面が正三角形で、側面がすべて合同な二等辺三角形である角錐を、正角錐という。
2		展開図を組み立てると、下の図のようになる。    図2から、点Aと重なる点、辺BCと重なる辺を見つける。
3	②	〔覚えておこう〕 同じ直線上にない3点を通る平面は1つしかない。
4	①, ④, ⑥	右の図のような立方体で考えるとよい。 ② 平面Q, Rは、ともに、平面Pに垂直であるが、BFで交わっている。 ③ EF, FGは、ともに、平面Pに平行であるが、点Fで交わっている。 ⑤ 平面Q, Rは、ともに、DHに平行であるが、BFで交わっている。 
5	辺AD, 辺CD	〔覚えておこう〕 同じ平面上にない2つの直線はねじれの位置にあるという。 四角錐には8つの辺がある。このうち、辺OA, OC, ODの3つの辺は辺OBと点Oを共有しているため、辺OBとねじれの位置にはない。また、辺AB, CBの2つの辺は辺OBと点Bを共有しているため、辺OBとねじれの位置にはない。残る3つの辺のうち、辺OB自身をのぞいた、辺AD, CDの2つの辺について、同じ平面上にないかどうかを調べるとよい。
6	三角柱	〔覚えておこう〕 真正面から見た図を立面図といい、真上から見た図を平面図という。 また、立面図と平面図をあわせて、投影図という。 平面図は三角形、立面図は長方形だから、この立体は三角柱である。
7	(1) 96cm^2 (2) 42cm^3	〔覚えておこう〕 角柱の底面積を S 、高さを h 、体積を V とすると、 $V=Sh$ (1) 側面は、2辺の長さが3cmと7cm、4cmと7cm、5cmと7cmの3つの長方形で、 $(3+4+5) \times 7 + \frac{1}{2} \times 3 \times 4 \times 2 = 96(\text{cm}^2)$ (2) $\frac{1}{2} \times 3 \times 4 \times 7 = 42(\text{cm}^3)$
8	(1) $72\pi\text{cm}^2$ (2) $80\pi\text{cm}^3$	〔覚えておこう〕 円柱の底面の半径を r 、高さを h 、体積を V とすると、 $V=\pi r^2 h$ (1) 円柱の表面積は、側面の展開図の長方形の面積と、2つの底面の円の面積の和で、 $(2\pi \times 4) \times 5 + \pi \times 4^2 \times 2 = 72\pi(\text{cm}^2)$ (2) $\pi \times 4^2 \times 5 = 80\pi(\text{cm}^3)$
9	(1) 800cm^2 (2) 1280cm^3	〔覚えておこう〕 角錐の底面積を S 、高さを h 、体積を V とすると、 $V=\frac{1}{3}Sh$ (1) $\frac{1}{2} \times 16 \times 17 \times 4 + 16^2 = 800(\text{cm}^2)$ (2) $\frac{1}{3} \times 16^2 \times 15 = 1280(\text{cm}^3)$
10	$24\pi\text{cm}^2$ $12\pi\text{cm}^3$	〔覚えておこう〕 円錐の底面の半径を r 、高さを h 、体積を V とすると、 $V=\frac{1}{3}\pi r^2 h$ (1) 側面の展開図のおうぎ形の中心角を x° とすると、その弧の長さは底面の円の周の長さに等しいから、 $(2\pi \times 3) : (2\pi \times 5) = x : 360$ これから、 $x=216$ 半径5cm、中心角 216° のおうぎ形の面積は、 $\pi \times 5^2 \times \frac{216}{360}(\text{cm}^2)$ だから、 $\pi \times 5^2 \times \frac{216}{360} + \pi \times 3^2 = 24\pi(\text{cm}^2)$ (2) $\frac{1}{3} \times \pi \times 3^2 \times 4 = 12\pi(\text{cm}^3)$
11	(1) $144\pi\text{cm}^2$ (2) $288\pi\text{cm}^3$	〔覚えておこう〕 球の半径を r 、表面積を S 、体積を V とすると、 $S=4\pi r^2$ 、 $V=\frac{4}{3}\pi r^3$ (1) $4\pi \times 6^2 = 144\pi(\text{cm}^2)$ (2) $\frac{4}{3}\pi \times 6^3 = \frac{4}{3}\pi \times 216 = 288\pi(\text{cm}^3)$